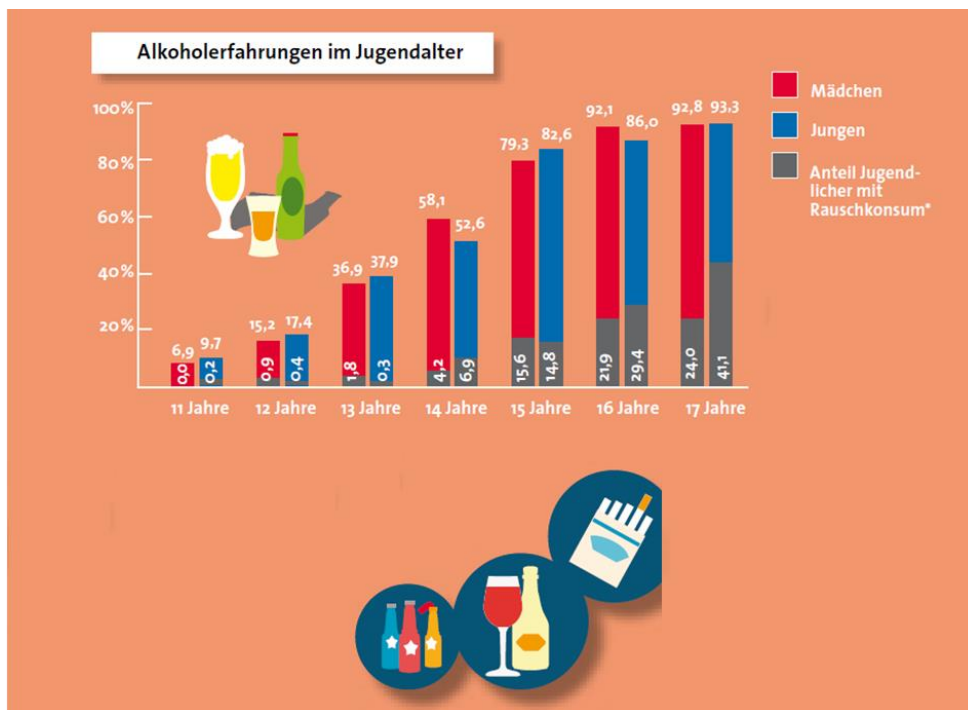


## Lösungen zum Quatschdetektor unter

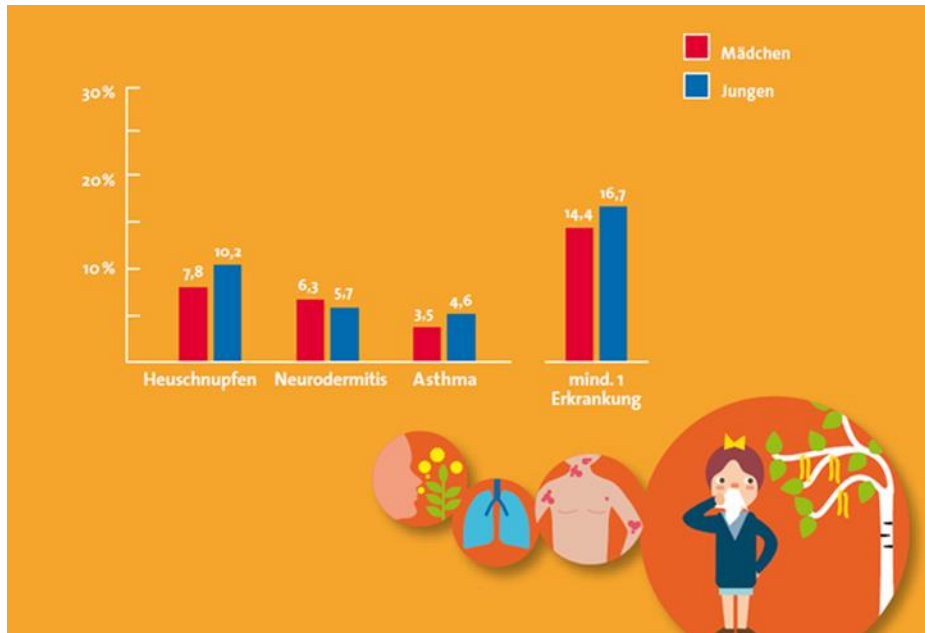
<https://www.unipark.de/uc/quatsch03/>

### 3a. Alkohol im Jugendalter



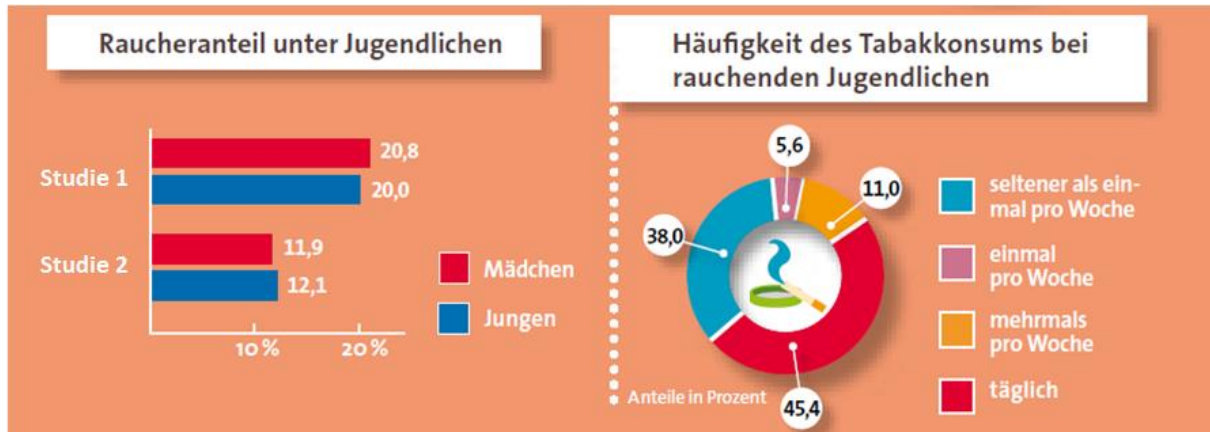
Was folgt aus der Grafik? (unabhängig vom generellen Wahrheitsgehalt)	Richtig	Falsch
a) Ein Teil der Jugendlichen mit Alkoholerfahrung sind sogenannte Rauschkonsumenten.	x	
b) Am meisten Alkohol trinken 16-jährige Mädchen.		x
c) Der Anteil der Jugendlichen, welche schon Erfahrungen mit Alkohol gemacht haben, steigt mit zunehmendem Alter an.	x	
d) Am wenigsten Rauschkonsumenten gibt es unter den 11-jährigen Jungen.		x
e) Weniger als die Hälfte der 13-Jährigen Jungen und Mädchen haben schon Erfahrung mit Alkohol gemacht.	x	
f) Der Anteil der Rauschkonsumenten ist bei 15-Jährigen Jungen geringer als bei 15-Jährigen Mädchen.	x	

### 3b.Häufigkeit allergischer Erkrankungen



Was folgt aus der Grafik? (unabhängig vom generellen Wahrheitsgehalt)	Richtig	Falsch
a) Jungen sind häufiger von mindestens einer allergischen Erkrankung betroffen als Mädchen.	x	
b) Von den allergischen Erkrankungen ist Neurodermitis die seltenste Erkrankung.		x
c) Als allergische Krankheiten werden in der Grafik Heuschnupfen, Neurodermitis und Asthma genannt.	x	
d) Heuschnupfen trifft mehr als doppelt so viele Jungen wie Asthma.	x	
e) Jungen leiden häufiger an mehreren allergischen Erkrankungen gleichzeitig als Mädchen.		x
f) Es leiden mehr Jungen als Mädchen unter Heuschnupfen.	x	

### 3c. Rauchen unter Jugendlichen



Was folgt aus der Grafik? (unabhängig vom generellen Wahrheitsgehalt)	Richtig	Falsch
a) <u>linke Grafik</u> : Studie 1 und Studie 2 kommen zu unterschiedlichen Ergebnissen.	x	
b) <u>linke Grafik</u> : In beiden Studien hat man herausgefunden, dass der Raucheranteil bei Mädchen höher ist als bei Jungen.		x
c) <u>rechte Grafik</u> : Die meisten aller aktuell rauchenden Jugendlichen rauchen seltener als einmal pro Woche.		x
d) <u>rechte Grafik</u> : Unter den rauchenden Jugendlichen ist die Gruppe der täglich rauchenden Jugendlichen am größten.	x	
e) <u>rechte Grafik</u> : Die Grafik beschreibt die Häufigkeit des Tabakkonsums bei rauchenden Jungen.		x
f) <u>rechte Grafik</u> : Die Studie unterscheidet fünf verschiedene Stufen bei der Häufigkeit des Tabakkonsums.		x